


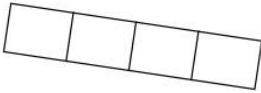
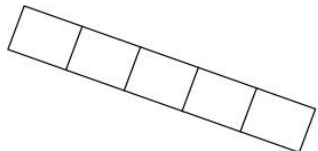
**Guía Autoevaluación Septiembre Matemática 2° Básico**  
**Aprendo Feliz**

|                |               |
|----------------|---------------|
| <b>NOMBRE:</b> |               |
| <b>CURSO:</b>  | <b>FECHA:</b> |

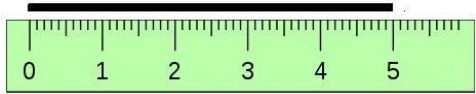
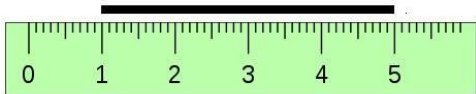
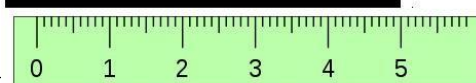
**Instrucciones:**

Lee atentamente cada pregunta y encierra la alternativa correcta.

**1** ¿Cuál es el más largo? **OA\_19**

A.  B.  C. 

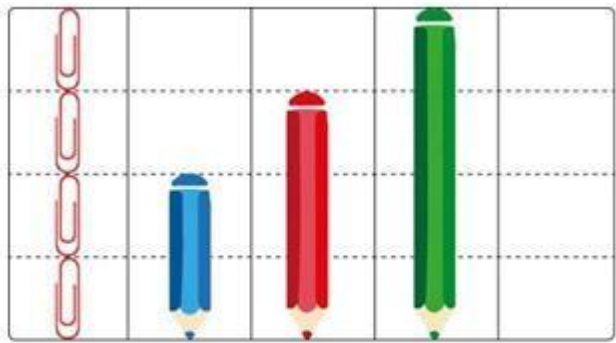
**2** ¿Cuál de las siguientes líneas mide 5 cm? **OA\_19**

A.  B.  C. 

**3** ¿A cuánto equivale 1 metro? **OA\_19**

A. 10 cm.  
 B. 100 cm.  
 C. 500 cm.

**4** ¿Cuál de los siguientes lápices mide lo mismo que 2 clips? **OA\_19**

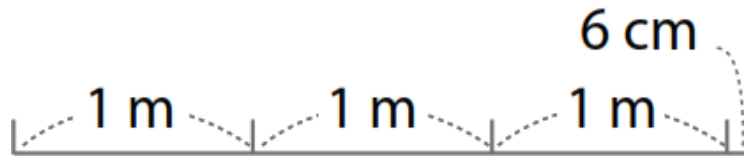


A      B      C

A. Lápiz azul.      B. Lápiz rojo.      C. Lápiz verde.

5 ¿Cuánto mide lo que muestra la imagen?

OA\_19




A. 36 m.

B. 3 m y 6 cm

C. 9 cm.

6 ¿En cuál de los siguientes objetos es adecuado usar centímetros para medirlo?

OA\_19



7 ¿En cuál de las siguientes alternativas las medidas se encuentran ordenadas de mayor a menor?

OA\_19


A. 3 m – 6 cm – 4 m – 34 cm.

B. 4 m – 3 m – 34 cm – 6 cm.

C. 34 cm – 6 cm – 4 m – 3 m.

8 Margarita quiere usar cinta para decorar **2 lados** del marco del retrato de sus padres, ¿Cuántos centímetros de cinta necesitará para hacerlo? (decorará los lados punteados).

OA\_19







A. 24 cm

B. 20 cm

C. 14 cm

### Autoevaluación

Lee cada pregunta y luego responde pintando una de las caritas.

| Indicadores                                  |  |
|--|--|
| ¿Respondí todas las preguntas?               |   |
| ¿Necesité ayuda de un adulto para responder? |   |
| Ahora ¿conozco los centímetros?              |   |
| Ahora ¿conozco los metros?                   |  |