

GUÍA AUTOEVALUACIÓN AGOSTO MATEMÁTICA 2° BÁSICO
“APRENDO FELIZ”

NOMBRE:	
CURSO:	FECHA:

Instrucciones:


Lee atentamente cada pregunta y encierra la alternativa correcta.

1 ¿Cuál es el resultado al resolver la siguiente adición? **OA_9**

$$\begin{array}{r}
 19 \\
 + 70 \\
 \hline
 \end{array}$$

A. 80 B. 89 C. 99

2 En el colegio de Francisca, hay dos cursos en segundo básico. Hay **31** niños en 2° A y **28** niños en 2° B. ¿Cuántos niños en total hay en 2° básico? **OA_9**



A. 38 B. 42 C. 59

3 El curso de Ana tiene 39 alumnos. ¿Cuántos deben faltar para que en el curso estén 30 niños presente? **OA_9**

A. Deben faltar 9 alumnos.
 B. Deben faltar 19 alumnos.
 C. Deben faltar 29 alumnos.

	39
	30
	9

4 ¿Qué debemos hacer para resolver el problema?

OA_9

Susanita hizo cisnes de papel el viernes y el sábado.
 ¿Cuántos cisnes hizo en total?



- A. Sumar 13 y 31. B. Restar 13 y 31. C. Contar solo los cisnes naranjos.

5 ¿Cuál es el error?

OA_9

$$\begin{array}{r}
 96 \\
 - 16 \\
 \hline
 86
 \end{array}$$

- A. El resultado corresponde a una adición.
 B. Al restar 6 al número 6 el resultado es 0 y no 6.
 C. Al restar 9 y 1 el resultado es 5 y no 8.

4 Resuelve las siguientes sustracciones en forma vertical.

OA_9

a) $45 - 24 =$

$$\begin{array}{r}
 45 \\
 - 24 \\
 \hline
 21
 \end{array}$$

b) $76 - 34 =$



$$\begin{array}{r}
 76 \\
 - 34 \\
 \hline
 42
 \end{array}$$

c) $99 - 36 =$

$$\begin{array}{r}
 99 \\
 - 36 \\
 \hline
 63
 \end{array}$$

Autoevaluación

Lee cada pregunta y luego responde pintando una de las caritas.

Indicadores	
¿Respondí todas las preguntas?	
¿Necesité ayuda de un adulto para responder?	
¿Aprendí a resolver sustracciones?	