

**GUÍA AUTOEVALUACIÓN JULIO MATEMÁTICA 1° BÁSICO**

**APRENDO FELIZ**

Evaluando mis aprendizajes:

Nombre: \_\_\_\_\_ Curso: \_\_\_\_\_

OA: 01 Contar números del 0 al 100 de 1 en 1, de 2 en 2, de 5 en 5 y de 10 en 10, hacia adelante y hacia atrás, empezando por cualquier número menor que 100.


OA: 09 Demostrar que comprenden la adición y la sustracción de números del 0 al 20.

1- Juan tiene 6 pinturas, le dan 2 más. ¿qué debe hacer?



- A) Sumar
- B) Restar
- C) Sumar y Restar

2- ¿Cuántas flores hay en total?



- A)  $7 + 3 = 8$
- B)  $8 + 2 = 10$
- C)  $8 - 2 = 6$

3- Hay 3 hamster grandes y 5 chicos. ¿Cuántos hamster hay en total?



- A)  $3 + 5 = 8$
- B)  $5 - 3 = 2$
- C)  $3 + 2 = 5$

4- Hay 10 lápices, Javier le sacó punta a 3 ¿Cuántos lápices le quedan por sacar punta?





- A) 10
- B) 13
- C) 7

5- Hay 8 manzanas y se comieron 4, ¿cuántas manzanas quedan?




- A) 4
- B) 8
- C) 12

6- Osos o perros, ¿de cuál hay más?



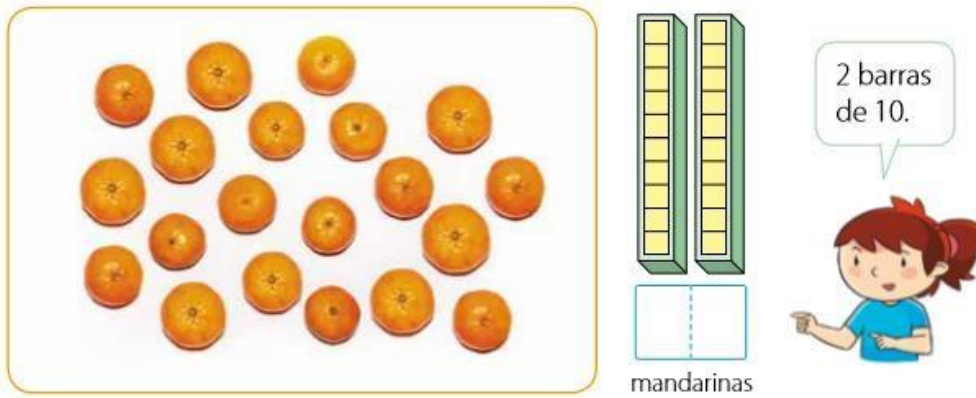
- A) Osos
- B) Perros
- C) Igual cantidad

7- ¿Cuántos huevos hay?



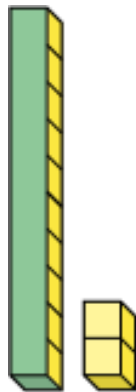
- A) 10
- B) 6
- C) 16

8- ¿Cuántas naranjas hay?




- A) 9
- B) 10
- C) 20

9- Si tengo 10 y 2 hacen:



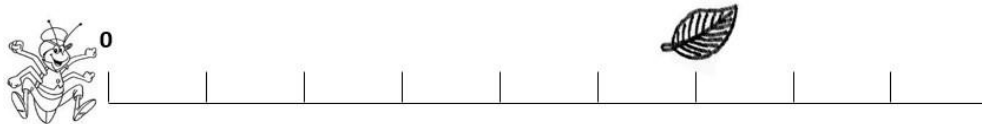
- A) 10
- B) 12
- C) 2

10- Si tengo 10 y 8 hacen:



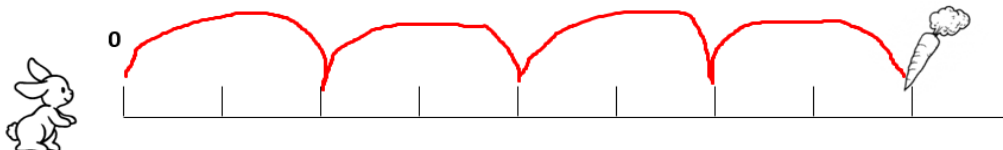
- A) 18
- B) 8
- C) 10

11- ¿Cuántos saltos debe dar el grillo para llegar a la hoja?



- A) 6
- B) 10
- C) 8

12- ¿A qué número saltará el conejo para llegar a la zanahoria si va saltando de 2 en 2?



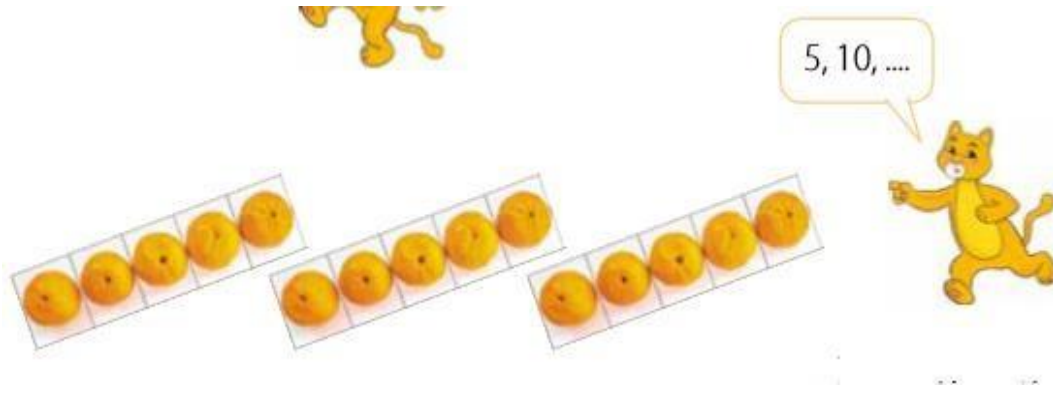
- A) llegará al número 3
- B) llegará al número 8
- C) llegará al número 5

13- ¿Cómo cuenta las frutillas el gato?



- A) De 1 en 1
- B) De 2 en 2
- C) De 5 en 5

14- Las naranjas se cuentan en secuencia de:

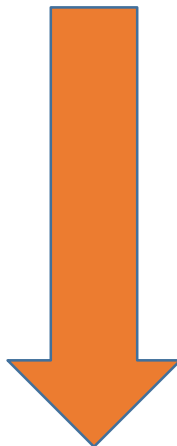


- A) 2 en 2
- B) 5 en 5
- C) 10 en 10

15- ¿Qué números faltan?



- A) 14 y 19
- B) 16 y 18
- C) 16 y 19





**Auto evaluación**

1- ¿Entiendes las sumas?

- A) Si
- B) No
- C) Un poco

2- ¿Entiendes las restas?

- A) Si
- B) No
- C) Un poco

3- ¿Qué te cuesta más?

- A) Sumas
- B) Restas
- C) Ninguna

4- ¿Has visto los vídeos de sumas y restas hecho por tú profesora?

- A) Si
- B) No

5- ¿Entendiste en el vídeo de tu profesora lo que es sumar?

- A) Si
- B) No
- C) Un poco

6- ¿Entendiste en el vídeo de tu profesora lo que es restar?

- A) Si
- B) No
- C) Un poco

7- ¿Te entretiene hacer matemática?

- A) Si
- B) No
- C) Un poco