

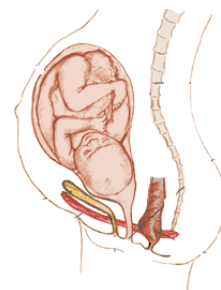
GUIA DE TRABAJO Nº 7
II. UNIDAD: SEXUALIDAD
CIENCIAS NATURALES 7º BÁSICOS

Nombre: **Curso:** 7..... **FECHA:**

OA 2 Explicar la formación de un nuevo individuo, considerando:

El ciclo menstrual (días fértiles, menstruación y ovulación). La participación de espermatozoides y ovocitos.

Dudas y consultas: profemayolaramgv@gmail.com WhatsApp +56976675274

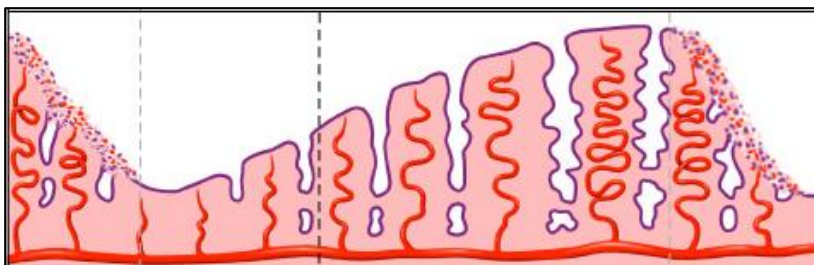
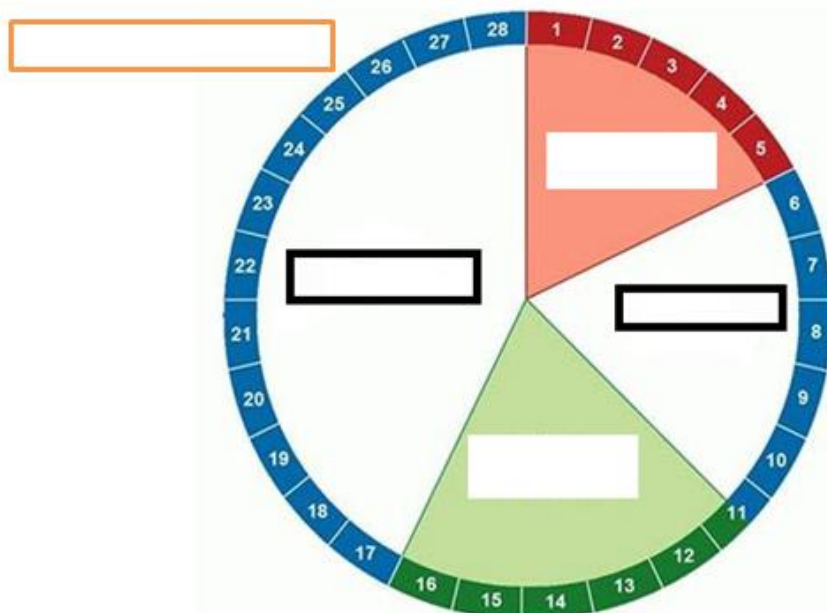


Instrucciones: Para resolver esta guía debes ver las páginas 162 a la 164 texto escolar



A continuación se presentan una serie de imágenes y cada una solicita información diferente, siempre relacionada con ciclo menstrual, ovulación y fecundación. **(12 pts.)**

1- Completa la información que solicita el esquema (Según los procesos que se han detallado en las clases)

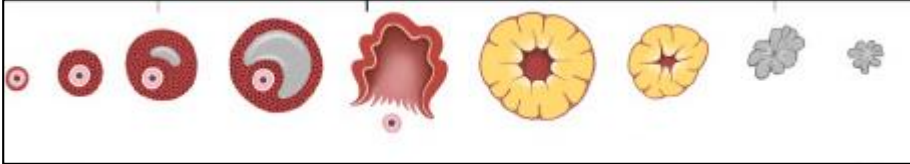


2- ¿Qué representa la imagen?
(respecto a un órgano específico de la mujer y su proceso)

.....

.....

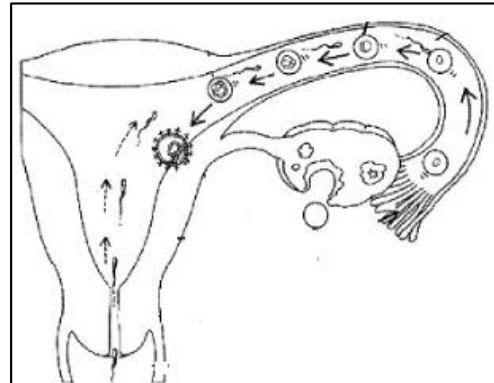
3- Describe qué cambios son los que representa la imagen.



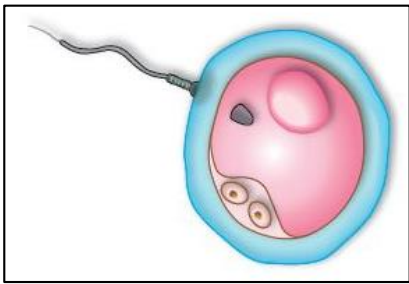
.....

4- Explica el trayecto de un espermatozoide, en relación a lo que propone la imagen.

.....

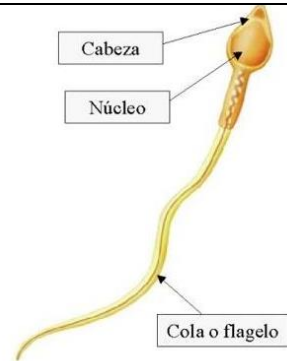
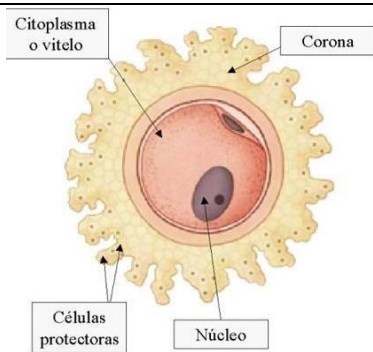


5- ¿Qué muestra la imagen y cuál es el nombre de este proceso?



.....

6- Indica los nombres de cada estructura



	CATEGORÍA		
INDICADORES	 LOGRADO	 POR LOGRAR	 NO LOGRADO
Demostre interés por la actividad "Guía"			
Leí y trabaje las páginas			

--	--

del texto 162 a la 164)			
Comprendí las indicaciones de la guía, para desarrollar las actividades			
Completé las actividades solicitadas por la profesora.			
Soy Capaz de identificar los procesos de un ciclo menstrual.			
Comprendo la función de los Aparatos reproductores			

PAUTA DE AUTOEVALUACIÓN

