

**GUÍA AUTOEVALUACIÓN JUNIO MATEMÁTICA 2° BÁSICO**  
**APRENDO FELIZ**

<b>NOMBRE:</b>	
<b>CURSO:</b>	<b>FECHA:</b>

**Instrucciones:**

Lee atentamente cada pregunta y responde en tu cuaderno.

1 ¿Cuál es el resultado de la siguiente sustracción? OA\_9

$70 - 10 =$


a) 50                                      b) 60                                      c) 90

2 ¿Cuál es el resultado de la siguiente sustracción? OA\_9

$46 - 14 =$

a) 32                                      b) 38                                      c) 42

3 ¿Cuánto dinero hay? OA\_9



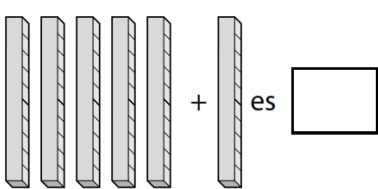
a) \$6                                      b) \$24                                      c) \$60

4 Explica cómo sumar OA\_9

$13 + 54$

a) Solo sumar 10 y 50.      b) Sumar primero las decenas y luego las unidades.      c) Sumar primero las unidades y luego las decenas.

5 Observa y luego responde. OA\_9



a) 50                                      b) 51                                      c) 60

6 ¿Cuánto dinero hay?

OA\_9



a) \$30

b) \$31

c) \$40

7 Javiera y Matías tienen cierta cantidad de peluches. ¿Cuántos peluches podrían tener cada uno si en total ambos tienen 27?

OA\_9

$$\boxed{\phantom{00}} + \boxed{\phantom{00}} = 27$$

Javiera      Matías

a) 20 + 7

b) 21 + 7

c) 17 + 20

8 ¿Cuál es el resultado de la siguiente sustracción?

OA\_9

$$67 - 7 = \boxed{\phantom{00}}$$

a) 60

b) 74

c) 67

9 Responde:

OA\_9

$$9 \text{ decenas} - 2 \text{ decenas} = \boxed{\phantom{00}}$$

a) 9 decenas

b) 8 decenas

c) 7 decenas





10 Suma verticalmente 36 + 42.

OA\_9

+		

### Autoevaluación

Lee cada pregunta y luego responde.

Indicadores		
¿Respondí todas las preguntas?		
¿Supe la respuesta de la mayoría de las preguntas?		
Escribe el número de la pregunta que te pareció más fácil de responder.		
Escribe el número de la pregunta que te pareció más difícil de responder.		