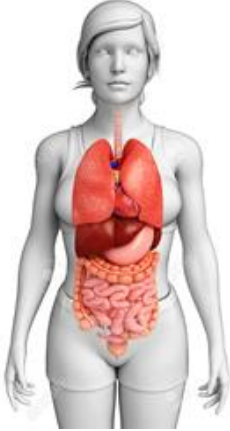
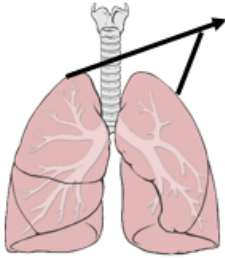
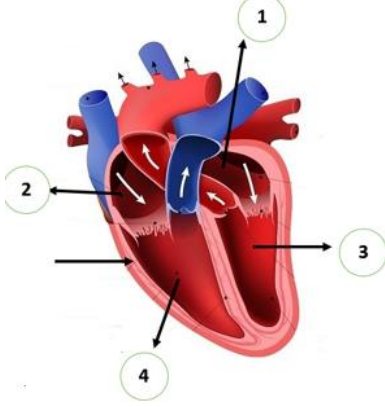
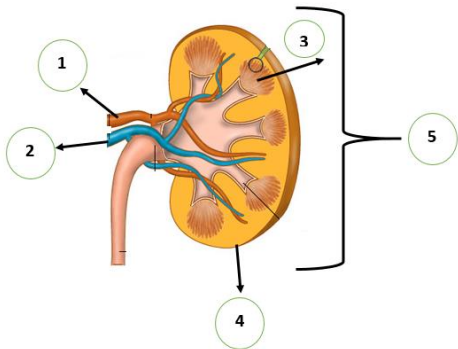





| | | |
|---------|----------------|--------------------------|
| NOMBRE: | CURSO 8° _____ | FECHA: 08 AL 12 de junio |
|---------|----------------|--------------------------|

➤ Recuerda todo lo trabajado en textos y guías 3 a la 7. Lee y luego responde.

1- Observa las imágenes, identifica el nombre de cada estructura y escribe su nombre.

| | |
|---|---|
|  | <p>El conjunto de órganos, que muestra la imagen, ¿A qué sistema corresponde?</p> <p><u>Sistema Digestivo / Sistema Respiratorio</u></p> |
|  | <p>Las flechas indican:</p> <p><u>Pulmones</u></p> |
|  | <p>¿Cuál es nombre de la estructura, que indican los números 3 y 4 indican?</p> <p><u>3.- Ventriculo derecho</u></p> <p><u>4.- Ventriculo izquierdo</u></p> |
|  | <p>Indica el nombre de la estructura N° 5</p> <p><u>5.- Riñón</u></p> |
|  | <p>¿Cuál es el nombre de esta estructura?</p> <p><u>Célula animal / célula eucarionte</u></p> |



2- Indica si la aseveración en Correcta o incorrecta.

| C | I | | |
|----------|----------|---|--|
| | I | 1 | El sistema digestivo, realiza el proceso de eliminación de toxinas del cuerpo. |
| C | | 2 | Por intermedio de los alveolos, los pulmones purifican el aire inhalado. |
| C | | 3 | La sangre transporta nutrientes y oxígeno. |
| | I | 4 | El sistema excretor se encarga de digerir los alimentos. |
| C | | 5 | La célula, incorpora nutrientes a través de la membrana plasmática. |

(5 pts.)

3- Selecciona la alternativa que consideres correcta.

| | |
|---|--|
| <p>1.- El siguiente conjunto de órganos; boca, esófago, estómago, intestinos y ano, corresponde al:</p> <p>a) Sistema Digestivo b) Sistema Respiratorio c) Sistema Circulatorio d) Sistema Excretor</p> | <p>2.- “Permite el paso del aire a los pulmones” La descripción, corresponde a la función de:</p> <p>a) Faringe b) Laringe c) Tráquea d) Pulmones</p> |
| <p>3.- ¿Qué sistema está encargado de bombear, transportar y distribuir la sangre en el cuerpo?</p> <p>a) Sistema Digestivo b) Sistema Respiratorio c) Sistema Circulatorio d) Sistema Excretor</p> | <p>4.- “Órganos que participan en el proceso de filtrar las toxinas del cuerpo” estos son:</p> <p>a) Pulmones b) Intestinos c) Riñones d) Ventrículos</p> |
| <p>5.- “Conjunto de procesos mediante los cuales, la célula obtiene la energía necesaria para realizar sus funciones vitales y para fabricar su materia celular”</p> <p>La descripción corresponde a:</p> <p>a) Dieta balanceada b) Nutrición celular c) Purificación de gases d) Digestión celular</p> | |

(5 pts.)