



Unidad II

OA: 1 Reconocer y explicar que los seres vivos están formados por una o más células y que estas se organizan en tejidos, órganos y sistemas

INTRUCCIONES

Lee cada pregunta y responde cada una de ellas en la hoja de respuesta, o en tu cuaderno. Envía una foto de estas al wsp 946402684

I.- Item Selección Múltiple

1.- ¿Cuál es el orden correcto, por el cual los alimentos pasan en el sistema digestivo?

- a) Cavidad bucal – estómago- intestino delgado – intestino grueso – ano.
- b) Cabeza – faringe – estómago – intestino grueso – intestino delgado – ano.
- c) Cavidad bucal - estómago – esófago - intestino delgado – intestino grueso - ano.
- d) Cavidad bucal – faringe – esófago - estómago – intestino delgado- intestino grueso – ano.

2.- La siguiente imagen corresponde a un/a:

- a) Órgano.
- b) Sistema.
- c) Célula vegetal.
- d) Célula animal.



3.- ¿Cuál es el órgano que tiene como función “conectar” los sistemas circulatorio, digestivo y respiratorio?

- a) Los pulmones porque intercambian gases que son fundamentales para el funcionamiento de los demás sistemas.
- b) El estómago porque consigue los nutrientes necesarios para que el cuerpo funcione.
- c) El corazón porque bombea la sangre que traslada los nutrientes del sistema digestivo y los gases del sistema respiratorio.
- d) El intestino delgado porque se encarga de conectar diversas zonas del cuerpo.

4.- La neurona, ¿a qué nivel de organización del organismo corresponde?

- a) Célula.
- b) Tejido.
- c) Sistema.
- d) Organismo.

5.- ¿Cómo se denomina a la estructura corporal que se caracteriza por estar compuesta de varios tejidos?

- a) Tejido.
- b) Órgano.
- c) Sistema.
- d) Célula.

II.- Ítem Términos pareados

Une la fila A con la definición correspondiente en la fila B

Fila A


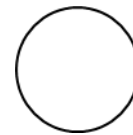
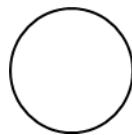
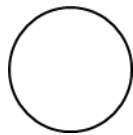

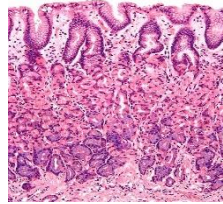
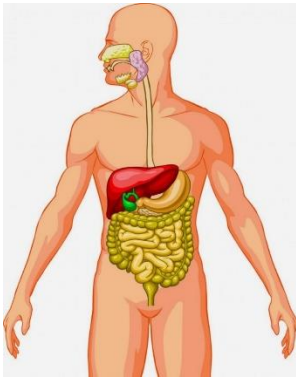
- 6.- Elemento básico de cada ser vivo
- 7.- Tercer nivel de organización biológica.
- 8.- El pasto está formado por....
- 9.- Los bronquios son parte de.....
- 10.- Los organismos pluricelulares tienen.....

Fila B

- Órgano
- Sistema respiratorio
- Muchas células
- Célula
- Células vegetales.

III.- Ítem Orden Niveles de organización

Coloca los números del 1 al 5 en cada dibujo según el nivel de organización biológica que corresponda.





HOJA RESPUESTA

¿Qué aprendimos en junio? 5° BÁSICO

Ítem Selección Múltiple

1.-.....

2.-.....

3.-.....

4.-.....

5.-.....

Ítem Términos pareados

Escribe la palabra de la fila B, frente al número correspondiente

6.-.....

7.-.....

8.-.....

9.-.....

10.-.....

Ítem Orden Niveles de Organización Biológica

Coloca en cada círculo el número que corresponde a la posición en que se presentan cada dibujo.

