

EVALÚO MIS APRENDIZAJES. (HISTORIA, GEOGRAFÍA Y CS. SOCIALES)

Nombre: _____ Curso: _____

OA 2: Secuenciar acontecimientos y actividades de la vida cotidiana, personal y familiar, utilizando categorías relativas de ubicación temporal, como antes, después; ayer, hoy, mañana; día y noche; este año, el año pasado, el próximo año.

OA 3: Registrar información sobre información sobre elementos que forman parte de su identidad personal.

OA 14: Explicar v aplicar normas de buena convivencia.

I.- Encierra en un círculo la letra de la alternativa correcta.

1.- ¿Qué imagen muestra la mañana?

		
a)	b)	c)

2.- ¿Qué momento del día muestra la imagen?



a) mañana	b) tarde	c) noche
-----------	----------	----------



3.- ¿En qué momento del día un niño almuerza?

a) tarde	b) mediodía	c) mañana
----------	-------------	-----------




4.- Observa las siguientes imágenes y marca la que dura más tiempo.

		
a)	b)	c)

5.- ¿Cuál es la acción que dura menos tiempo?

		
a)	b)	c)

6.- ¿Qué actividad se debería realizar en la tarde?

		
a)	b)	c)

7.- ¿Que debería hacer el niño después de jugar con sus juguetes?

		
a)	b)	c)

8.- Si hoy vas en primero básico, ¿en qué curso ibas el año pasado?

a) En primero básico	b) En kínder	c) En segundo básico
----------------------	--------------	----------------------

9.- Este año es 2020. ¿Cuál será el próximo año?

a) 2020	b) 2019	c) 2021
---------	---------	---------

10.- Hoy Renato está celebrando su cumpleaños N° 7.
¿Cuándo podrá celebrar Renato su cumpleaños N° 8?

a) El próximo año.	b) Este año.	c) Dentro de 2 años más.
--------------------	--------------	--------------------------

11.- Observa la imagen de esta familia.



¿Quiénes conforman esta familia?

a) Mamá, papá y una hija.	b) Mamá, hijo, hija.	c) Mamá, papá, hijo, hija.
---------------------------	----------------------	----------------------------

12.- ¿Cuántas personas son parte de esta familia?



a) 3 personas	b) 6 personas	c) 5 personas
---------------	---------------	---------------

13.- ¿Cuál es una norma que nos ayuda a respetar a los padres?

a) Gritar a los padres.	b) Pedir permiso para pararse de la mesa.	c) Dar patadas a los padres.
-------------------------	---	------------------------------

14.- ¿Cuál es la imagen donde la familia se está respetando?

		
a)	b)	c)

15.- ¿Qué demuestra esta imagen?



a) Todos los miembros de la familia discuten.	b) Todos los miembros de la familia ayudan en la casa para una sana convivencia.	c) Los miembros de la familia no se quieren.
---	--	--