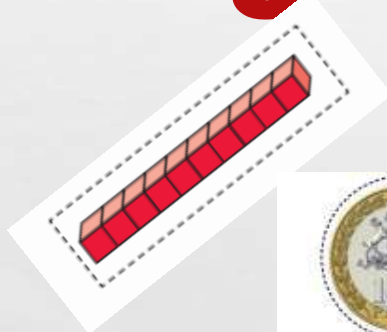
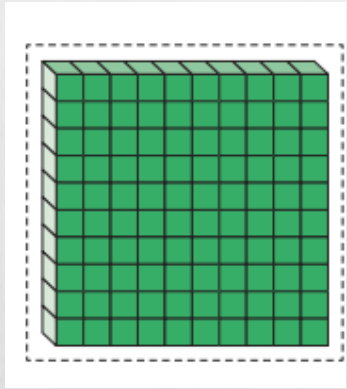



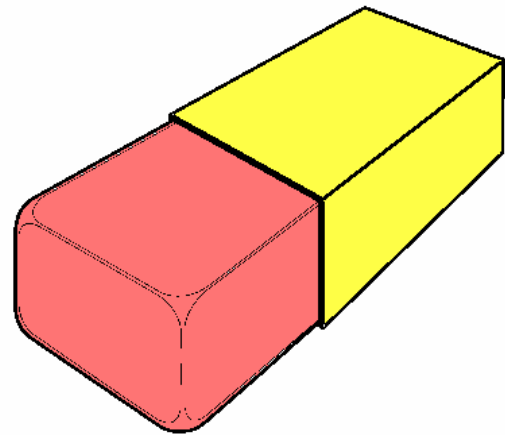
# ¿CUÁNTO APRENDÍ EN CASA? 3° BÁSICO



MATEMÁTICA



# ME PREPARO...



# REGISTRA EN TU CUADERNO

## CARTOLA DE RESPUESTA MAYO

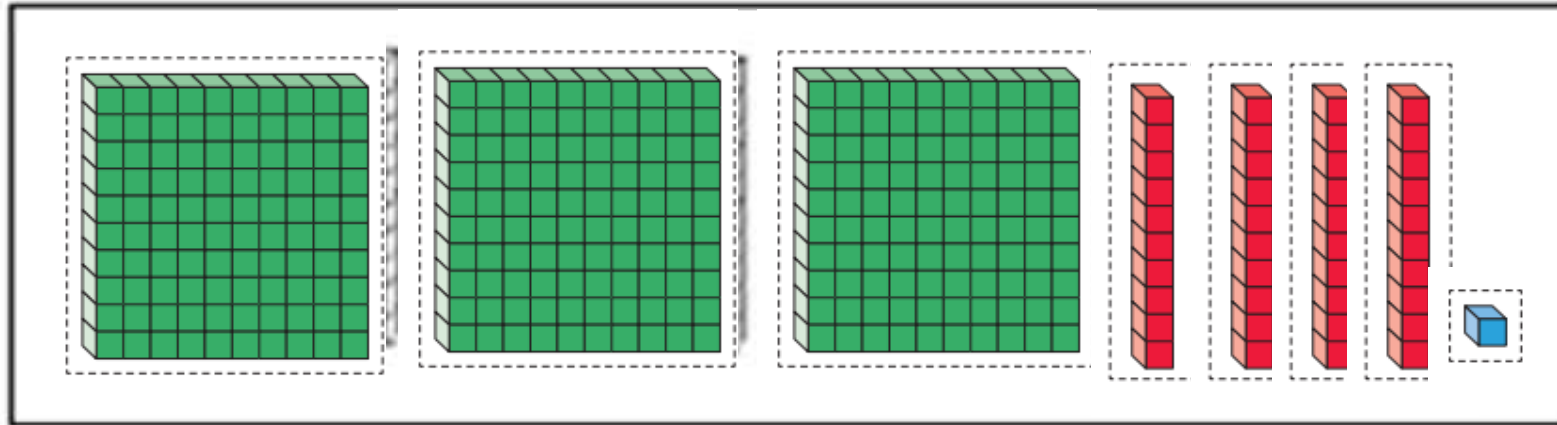
PREGUNTA	RESPUESTA
1	<b>D</b>
2	
3	
4	
5	
6	
7	
8	
9	

# QUÉ DEBÍA APRENDER?

- **OAO2: LEER NÚMEROS HASTA 1 000.**
- **OAO1: CONTAR NÚMEROS DEL 0 AL 1 000.**
- **OAO3: COMPARAR Y ORDENAR NÚMEROS.**

# PREGUNTA 1

Observa la siguiente imagen



1.- ¿Qué número representa el total de cubos en la imagen?

- a) 331
- b) 304
- c) 341

# **PREGUNTA 2**

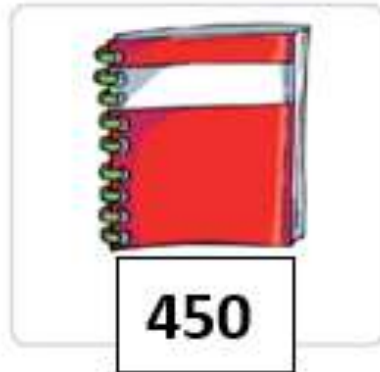
**2.- El número 448 se lee:**

- a) Cuatrocientos cuarenta y ocho.**
- b) Cuatrocientos ochenta y cuatro.**
- c) Cuatrocientos y ocho.**



# PREGUNTA 3

3.- Encierra las monedas que corresponden al valor del cuaderno, luego marca la alternativa correcta



- a) 4 monedas de 100 y 4 monedas de 10
- b) 5 monedas de 100 y 4 monedas de 10
- c) 4 monedas de 100 y 5 monedas de 10

# PREGUNTA 4

4.- Si la siguiente secuencia se forma sumando 5 a cada número, entonces: ¿Qué número va en la casilla marcada?

125

a) 145

b) 140

c) 135



# PREGUNTA 5

Macarena tiene las siguientes monedas.



5.-¿Que patrón podemos utilizar para descubrir cuánto dinero tiene Macarena??

- a) Contar de 100 en 100
- b) Contar de 10 en 10
- c) Contar de 1 en 1

# PREGUNTA 6

- **OBSERVA LA SIGUIENTE SECUENCIA**

77	75	73	71	69	67	65	63
----	----	----	----	----	----	----	----

6.- ¿Cuál es el patrón que se utiliza en esta secuencia?

- a) Sumar de 2 en 2
- b) Restar de 2 en 2
- c) Restar de 3 en 3

# PREGUNTA 7

Observa las siguientes tarjetas y luego responde:

7

0

8

7.- ¿Cuál es el mayor número que se puede formar con ellas?

- a) 708
- b) 780
- c) 870

# PREGUNTA 8

Observa los siguientes números y luego responde:

903	975	955
-----	-----	-----

8.- ¿Cuál de la alternativa muestra los números ordenados de menor a mayor?

- a) 903 – 975 – 955.
- b) 903 – 955 – 975.
- c) 955 – 975 – 903.

# PREGUNTA 9

9.- ¿Entre qué números se ubica 870?

- a) 869 y 871
- b) 779 y 800
- c) 870 y 980.

# REGISTRA EN TU CUADERNO

## AUTOEVALUACIÓN MAYO



PREGUNTA	RESPUESTA
<b>A</b>	<b>11</b>
<b>B</b>	
<b>C</b>	
<b>D</b>	
<b>E</b>	





# AUTOEVALUACION

**A ¿Cuál de las preguntas fue más sencilla de resolver?**

**B ¿Cuál de las preguntas en esta guía te gustaría profundizar para mejorar su comprensión?**

**C. ¿En qué pregunta(s) consideras llegaste al resultado correcto?**

**D. ¿En qué pregunta(s) solo intuiste el resultado? (Es decir, no fue necesario desarrollar ninguna estrategia)**

**E. ¿ Conoces la importancia y/o utilidad en la vida cotidiana de los contenidos relacionados con las preguntas? Indique cual de ella(s)**

**ÉXITO !!!**

