

**GUÍA AUTOEVALUACIÓN MAYO MATEMÁTICA 2° BÁSICO**

**NOMBRE:**

**CURSO:**

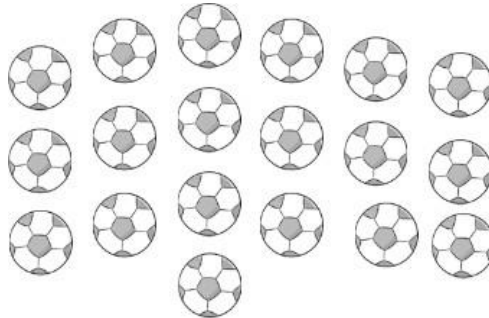
**FECHA:**

**Instrucciones:**

Lee atentamente cada pregunta y responde en tu cuaderno.

**1** ¿Cuántos balones de fútbol hay?

**OA\_1**



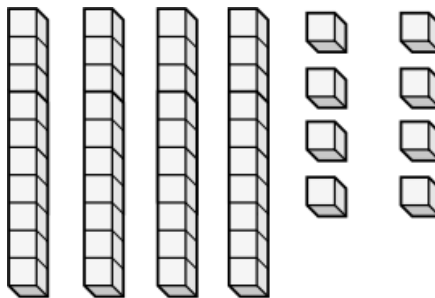
**a) 12**

**b) 15**

**c) 19**

**2** ¿Qué NÚmero representan las barras y cubos?

**OA\_1**



**a) 36**

**b) 48**

**c) 59**

**3** Responde:

**OA\_7**

7 decenas es igual a

**a) 7**

**b) 70**

**c) 77**

**4** Responde:

**OA\_1**

10 grupos de 10 es igual a

**a) 1**





**b) 10**

**c) 100**



### Autoevaluación

Lee cada pregunta y luego responde.

Indicadores		
¿Respondí todas las preguntas?		
¿Supe la respuesta de la mayoría de las preguntas?		
Escribe el NÚmero de las 2 preguntas que te parecieron más fáciles de responder.		
Escribe el NÚmero de las 2 preguntas que te parecieron más difíciles de responder.		