
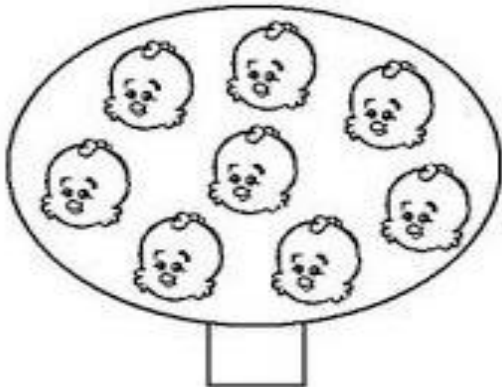


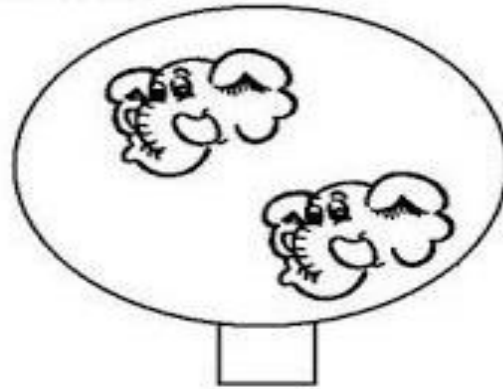














**GUÍA AUTOEVALUACIÓN MAYO MATEMÁTICA 1° BÁSICO**  
**¿CÓMO VOY CON MIS APRENDIZAJES?**









Nombre: \_\_\_\_\_ Curso: \_\_\_\_\_


A- Cuenta los animales que hay en cada  y coloca en número que corresponda en el



B- Pinta la cantidad de  que indica cada número.

9 =          

0 =          

10 =          

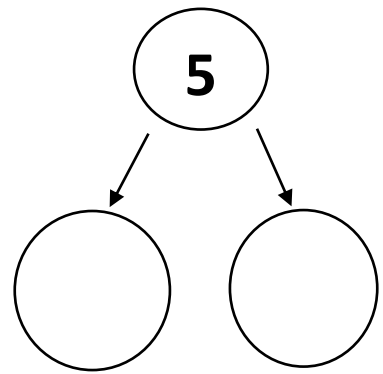
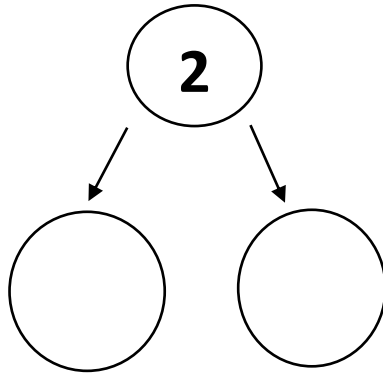
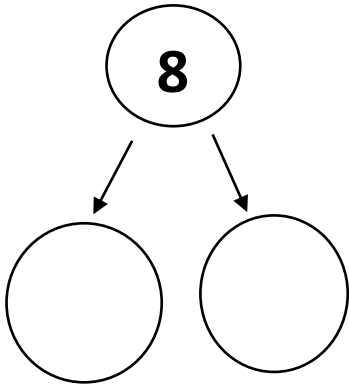
1 =          

7 =          

C- Une los puntos del 1 al 10 y forma la figura.



D- Como puedo separar los números.



E- Une con una línea para formar el numero:


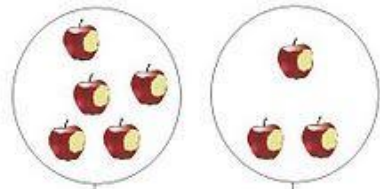

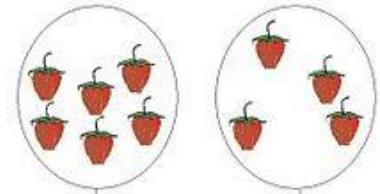
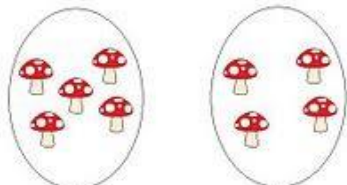
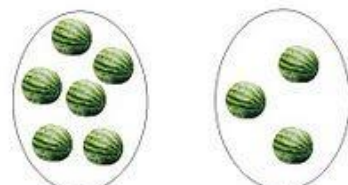
10



5



F- Cuenta y escribe los números en cada casillero, luego suma.


$$\square + \square = \square$$

$$\square + \square = \square$$

$$\square + \square = \square$$

$$\square + \square = \square$$

$$\square + \square = \square$$

$$\square + \square = \square$$

## AUTOEVALUACIÓN

Lee cada pregunta y luego dibuja tu carita:



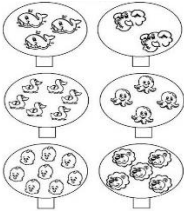

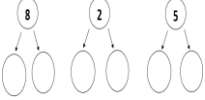
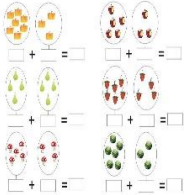
ALEGRE SI LO LOGRASTE



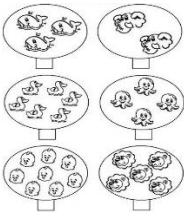


TRISTE SI NO LO LOGRASTE

INDICADORES	LO LOGRE	NO LO LOGRE
-Logre responder todas las preguntas	<input type="radio"/>	<input type="radio"/>
-Supe la respuesta de la mayoría de las preguntas	<input type="radio"/>	<input type="radio"/>
-Logre contar los animales en el ítem A	<input type="radio"/>	<input type="radio"/>
-Logre pintar los círculos según el número en el ítem B	<input type="radio"/>	<input type="radio"/>
-Logre unir los puntos del 1 al 10 para formar el dibujo. Ítem C	<input type="radio"/>	<input type="radio"/>
-Logre separar los números en el Ítem D	<input type="radio"/>	<input type="radio"/>
-Logre unir los números con la cantidad en el ítem E	<input type="radio"/>	<input type="radio"/>
-Logre contar y sumar en el ítem F	<input type="radio"/>	<input type="radio"/>

Marca con una X el ejercicio que **más te gusto** realizar

A	B	C	D	E	F
	<p>9= ○ ○ ○ ○ ○</p> <p>0= ○ ○ ○ ○ ○</p> <p>10= ○ ○ ○ ○ ○</p> <p>1= ○ ○ ○ ○ ○</p> <p>8= ○ ○ ○ ○ ○</p>			<p>10 - ☆☆☆ ☆☆☆</p> <p>- ☆☆☆☆ ☆☆☆</p> <p>- ☆☆☆☆ ☆☆☆☆☆</p> <hr/> <p>5 - ♡♡ ♡♡</p> <p>- ♡ ♡♡♡</p> <p>- ♡♡ ♡</p>	

Marca con una X el ejercicio que **menos te gusto** realizar

A	B	C	D	E	F
	<p>9= ○ ○ ○ ○ ○</p> <p>0= ○ ○ ○ ○ ○</p> <p>10= ○ ○ ○ ○ ○</p> <p>1= ○ ○ ○ ○ ○</p> <p>8= ○ ○ ○ ○ ○</p>			<p>10 - ☆☆☆ ☆☆☆</p> <p>- ☆☆☆☆ ☆☆☆</p> <p>- ☆☆☆☆ ☆☆☆☆☆</p> <hr/> <p>5 - ♡♡ ♡♡</p> <p>- ♡ ♡♡♡</p> <p>- ♡♡ ♡</p>	