

## EVALÚO MIS APRENDIZAJES 5º BÁSICO MAYO

Nombre: \_\_\_\_\_ Curso: \_\_\_\_\_ Fecha: \_\_\_\_/\_\_\_\_/\_\_\_\_

Aprendizaje Esperado	OA(9), OA(10), OA(11),OA(12)
Unidad:	1
Habilidad:	Conocer, Comprender, Aplicar, Analizar.

### Indicaciones:

- Lee atentamente las preguntas y **responde en tu cuaderno** la respuesta que consideres correcta.
- Tiempo estimado: 20 a 25 minutos.
- Envía las fotos de tus respuestas al correo [natyluzamgv@gmail.com](mailto:natyluzamgv@gmail.com)

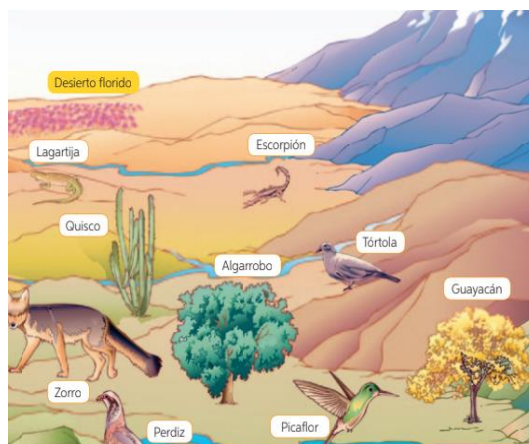
**I: Selección única:** Coloca el número de la pregunta en tu cuaderno y la letra de la respuesta que consideres correcta :

Observa la imagen y luego responde



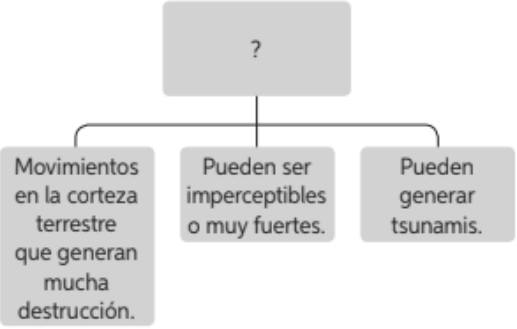
1. ¿En qué zona natural es posible encontrar el espacio geográfico que representa la imagen observada?
- A. Central.
  - B. Norte Grande.
  - C. Sur.
  - D. Austral.

3. El principal recurso minero explotado en Chile y que constituye la principal fuente de ingreso del país es :
- A. Petróleo.
  - B. Carbón.
  - C. Hierro.
  - D. Cobre.



2. La imagen corresponde a la zona:
- A. Norte Grande
  - B. Norte Chico
  - C. Sur
  - D. Austral

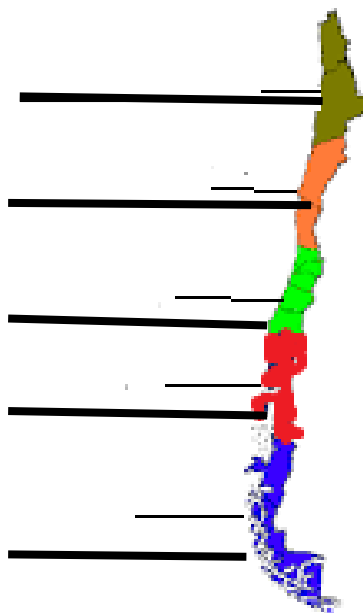
4. Los recursos naturales más importantes en la zona son los mineros. En la cordillera de los Andes y cordillera de la Costa se localizan yacimientos de cobre, en la depresión intermedia se presenta salitre y grandes salares. Esta descripción corresponde a la zona natural:
- A. Central.
  - B. Austral.
  - C. Norte Chico.
  - D. Norte Grande.

<p>5. ¿Cuál de los siguientes es un problema medioambiental común a todas las zonas naturales debido a la explotación no sustentable de sus recursos naturales?</p> <p>A. Escasez de agua para el consumo humano.  B. Pérdida de la diversidad de flora y fauna.  C. Erosión de los suelos localizados en el altiplano.  D. Contaminación del mar producto del cultivo del salmón.</p>	<p>6. “Esta zona geográfica se caracteriza por una vegetación de musgos y líquenes.” El texto se refiere a la zona:</p> <p>A. Central  B. Sur  C. Austral  D. Norte Chico</p>
<p>Analiza el esquema y responde:</p> <div style="text-align: center;">  </div> <p>7. ¿Qué riesgo natural debe completar el recuadro superior?</p> <p>A. Sismo  B. Sequía  C. Aluvión  D. Tsunami</p>	<p>8. “Ocurren al incrementarse las precipitaciones o deshielos provocando aumento del caudal de los ríos y ocupación por agua de sectores que habitualmente están libres de ella” La descripción corresponde a:</p> <p>A. Aluviones  B. Tsunamis  C. Glaciaciones  D. Inundación</p>

**II. Respuesta breve: Responde en tu cuaderno**

1. Observa con atención el mapa y señala al lado de cada flecha a que zona geográfica de Chile corresponde

1.
2.
3.
4.
5.



Lee el siguiente texto y responde:

“La Tierra, nuestro hogar, está viva con una comunidad singular de vida. La capacidad de recuperación de la comunidad de vida y el bienestar de la humanidad dependen de la preservación de una biosfera saludable, con todos sus sistemas ecológicos, una rica variedad de plantas y animales, tierras fértiles, aguas puras y aire limpio. El medioambiente global, con sus recursos finitos, es una preocupación común para todos los pueblos.

La protección de la vitalidad, la diversidad y la belleza de la Tierra es un deber sagrado”

Organización de las Naciones Unidas 1987, Carta de la tierra

2. Aplicando el texto leído a la zona natural donde vives ¿qué recursos naturales habría que cuidar en la zona central?

**III. Términos Pareados : Antepone en los conceptos de la columna A el número que corresponda de la columna B.**

COLUMNA A	COLUMNA B
___ Norte Grande	1. Esta zona abarca las regiones III y IV.
___ Cordillera de Nahuelbuta	2. Zona en que predomina el clima árido seco y en ella se encuentra el Altiplano.
___ Norte Chico	3. Cadena montañosa que se encuentra a lo largo de todo Chile
___ Cordillera de los Andes	4. Zona que abarca las regiones XI y XII
___ Zona Sur	5. En esta zona predominan bosques con especies como: araucarias, canelos, alerces.
___ Zona Austral	6. Predomina el clima templado y los mayores cultivos agrícolas del país
___ Zona Central	7. Nombre que recibe la cordillera de la Costa en el sur del País.

**IV. Verdadero y Falso ( justifica las falsas)**

	La zona Austral se caracteriza por tener la mayor cantidad de habitantes del país.
	En el desierto de Atacama ocurre el fenómeno llamado Desierto Florido.
	La Camanchaca es una neblina costera que ocurre en la costa del Norte de Chile.
	En el norte grande abundan las precipitaciones.
	Chile es un país expuesto contantemente a terremotos, debido a que se encuentra sobre la placa tectónica de Nazca y Sudamericana.
	Sólo las zonas de Chile con mayor población se han visto afectadas por los problemas ambientales.
	En la zona Austral encontramos la vegetación xerófita o adaptada a la escasez de precipitaciones.

