

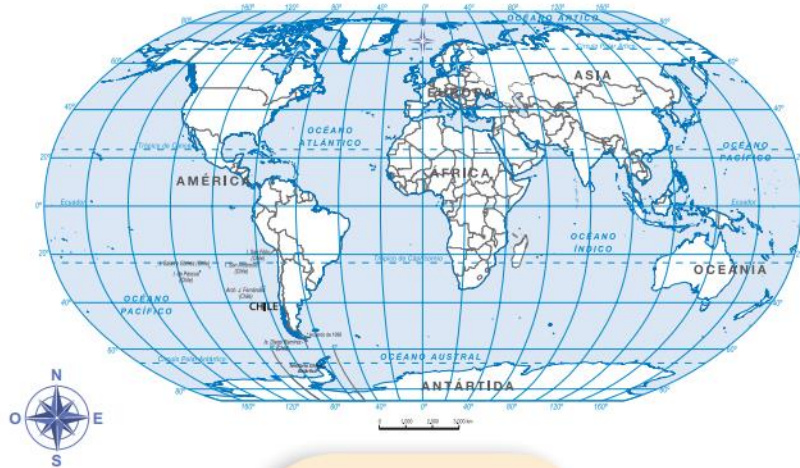
GUÍA DE APOYO PEDAGÓGICO

HISTORIA ,GEOGRAFÍA Y CIENCIAS SOCIALES 2° BÁSICO

NOMBRE :	CURSO:
UNIDAD I OA 7: Ubicar Chile, Santiago, la propia región y su capital en el globo terráqueo o en mapas, y describir la ubicación relativa de países limítrofes y de otros países de América del Sur, utilizando los puntos cardinales.	
OBJETIVO: Utilizar elementos geográficos en un planisferio, ubicando distintos territorios e identificando los puntos cardinales.	
Indicadores: <ul style="list-style-type: none"> • Ubican Chile en el planisferio, en el globo terráqueo y en el mapa de América del Sur. • Ubican la capital del país en un mapa de Chile. • Identifican los puntos cardinales y los utilizan para localizar lugares. 	

Observa atentamente .

Planisferio : Representación plana de la tierra.



Globo terráqueo: Representa la forma de la tierra.

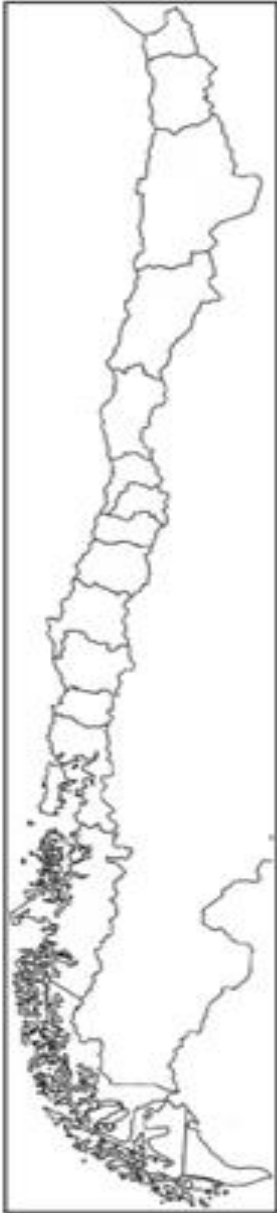


Actividad 1: Comparar

	Semejanza	Diferencia
Globo Terráqueo		
Planisferio		

Actividad 2 : ¿ CÓMO ES CHILE ?

Chile se divide en 16 regiones cada una de ellas tiene su capital .

	<p>Trabaja en el mapa de Chile.</p> <ol style="list-style-type: none"> 1. Marca Santiago, con un punto rojo y escribe su nombre. 2. Pinta la región donde vives y escribe su nombre. 3. Marca la capital de la región donde vives, con un punto azul y escribe su nombre. 4. Marca la localidad donde vives con un punto verde y escribe su nombre. 5. Pinta el resto de Chile con un color claro. 6. Pinta celeste el mar y escribe el nombre del océano Pacífico. 7. Responde: <ol style="list-style-type: none"> a) ¿Tu región está al norte o al sur de Santiago? b) Anota las regiones que limitan con la tuya: <p>por el norte: _____ .</p> <p>por el sur: _____ .</p> c) La región donde vivo limita <p>por el este con: _____ .</p> <p>por el oeste con: _____ .</p>
--	---

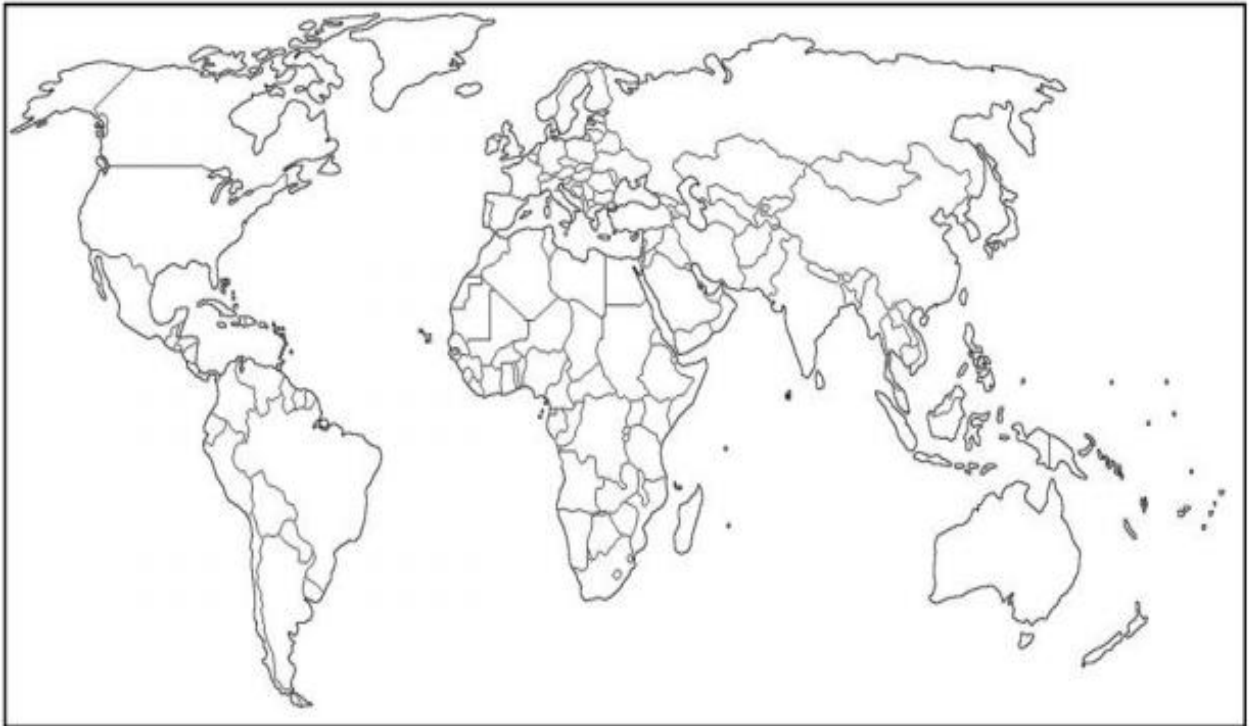
Actividad 3 ¿DÓNDE ESTA CHILE?

Chile es un país tricontinental , tiene presencia en América, la Antártida y algunas de sus islas como Rapa Nui , está en la Polinesia , Oceanía . ubicado en el hemisferio sur y pertenece al continente americano.

A continuación observa nuestro país en el siguiente mapa .

CHILE EN EL PLANISFERIO

1. Pinta Chile en el planisferio y escribe su nombre.
2. Marca con un punto la capital, Santiago, y escribe su nombre.



Un mapa representa un territorio o lugar y sirve para ubicar continentes, países o regiones.

Actividad 4 : CHILE EN EL GLOBO TERRÁQUEO

CHILE EN EL GLOBO TERRÁQUEO

1. Pinta Chile en el globo terráqueo y escribe su nombre.
2. Marca con un punto la capital, Santiago y escribe su nombre.

