

**GUÍA DE APOYO PEDAGÓGICO**  
**N° 1 MATEMÁTICA 2° BÁSICO**

<b>NOMBRE:</b>	
<b>CURSO:</b>	<b>FECHA:</b>

**OA\_3 Comparar y ordenar números del 0 al 100.**

**I. Completa la siguiente tabla con los números que faltan.**

<b>1</b>	<b>2</b>			<b>5</b>					<b>10</b>
		<b>13</b>	<b>14</b>			<b>17</b>			
<b>21</b>				<b>25</b>			<b>28</b>		<b>30</b>

**II. Pinta el número mayor en cada serie.**

a) 

10	20	5
----	----	---

b) 

6	9	11
---	---	----

c) 

22	15	26
----	----	----

d) 

28	15	4
----	----	---

**III. Escribe el número que es uno antes que:**

a) 

	27
--	----

b) 

	12
--	----

c) 

	30
--	----

d) 

	24
--	----

**IV. Escribe el número que es uno después que:**

a) 

19	
----	--

b) 

29	
----	--

c) 

22	
----	--

d) 

15	
----	--

**V. Escribe el número que está entre:**

a) 

9		11
---	--	----

b) 

17		19
----	--	----

c) 

20		22
----	--	----






d) 

28		30
----	--	----


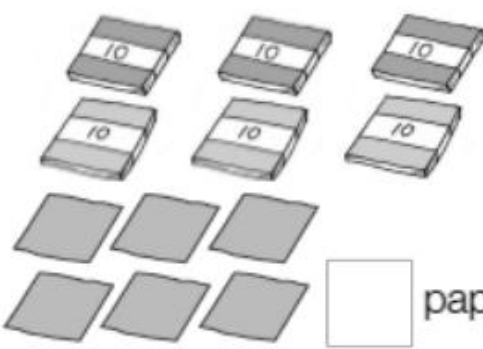
**OA\_7 Identificar las unidades y decenas en números del 0 al 100.**

**REPASAMOS LAS DECENAS Y UNIDADES.**

1. ¿Cuántos cubos hay?

Decenas	Unidades	Decenas	Unidades	Decenas	Unidades
					
<div style="display: flex; justify-content: space-around; width: 100%;"> <span>↘</span> <div style="border: 1px solid black; padding: 2px 10px;">8</div> <div style="border: 1px solid black; padding: 2px 10px;">5</div> <span>↙</span> </div>		<div style="display: flex; justify-content: space-around; width: 100%;"> <span>↘</span> <div style="border: 1px solid black; padding: 2px 10px; width: 30px; height: 30px;"></div> <div style="border: 1px solid black; padding: 2px 10px; width: 30px; height: 30px;"></div> <span>↙</span> </div>		<div style="display: flex; justify-content: space-around; width: 100%;"> <span>↘</span> <div style="border: 1px solid black; padding: 2px 10px; width: 30px; height: 30px;"></div> <div style="border: 1px solid black; padding: 2px 10px; width: 30px; height: 30px;"></div> <span>↙</span> </div>	

2. ¿Cuántos hay?

 <div style="display: flex; justify-content: center; align-items: center; margin-top: 10px;"> <div style="border: 1px solid black; width: 40px; height: 40px; margin-right: 10px;"></div> <span>lápices.</span> </div>	 <div style="display: flex; justify-content: center; align-items: center; margin-top: 10px;"> <div style="border: 1px solid black; width: 40px; height: 40px; margin-right: 10px;"></div> <span>papeles.</span> </div>
---	--

3. Completa:

- 8 decenas y 4 unidades son:
- 7 decenas son:
- 6 decenas y 2 unidades son:
- 5 decenas y 9 unidades son: